






# グラフを つくろう！

いろいろなずけいを、したの グラフの ますに いろを めろう。  
 ますに いろを めったら、そのずけいに xするしを つけてね。



	1	2	3	4	5	6	7	8	9	10
										
										
										
										

いくつ あったかな？



\_\_\_\_\_



\_\_\_\_\_



\_\_\_\_\_



\_\_\_\_\_

グラフを つくろう！